



18 جانفي 2022

التصحيح النموذجي الامتحان الأول لمقياس رياضيات 1 والتفصيل

قسم: أولى تكنولوجيا

اللقب والاسم: رقم التسجيل: الفوج:
X X X

التمرين 1: (8 نقاط)

أذكر صحة أو خطأ كل قضية مما يلي

القضايا	(ص) أو (خ)
نفي القضية: $\forall x \in \mathbb{R}: (x^3 > x) \wedge (x \neq 2022)$ هو القضية: $\exists x \in \mathbb{R}: (x^3 \leq x) \vee (x = 2022)$	ص
$\forall x \in \mathbb{R}: x^2 - 6x + 5 > 0$	خ
$\exists x \in \mathbb{R}: x - 1 = 6x + 1$	ص
$\text{Arccos}(\cos 2\pi) = 2\pi$	خ
$\text{ch}(x) - \text{sh}(x) = e^{-x}$	ص
$(\text{Arctg}(-x + 1))' = \frac{1}{x^2 - 2x + 2}$	خ
لتكن g دالة معرفة بـ $g(x) = e^x - \text{Arcsin}(x)$ الدالة g متزايدة تماما على \mathbb{R}	خ
النشر المحدود بجوار 0 للدالة $f(x) = \ln(x + 1)$ هو: $f(x) = x + \frac{1}{2}x^2 + o(x^2)$	خ

$\forall x, y, z \in \mathbb{R}: x \mathcal{R} y \wedge y \mathcal{R} z$
 $\Rightarrow x^2 - y^2 > 15$
 $y^2 - z^2 > 15$
بالجمع طرفاً الطرف نجد:
 $x^2 - z^2 > 30$
وبما ان $30 > 15$ فـ
 $x^2 - z^2 > 15$
وهو $x \mathcal{R} z$
الـ \mathcal{R} متـ \mathcal{R} \mathcal{R} \mathcal{R}
صفحة 2/1

التمرين 2: (12 نقطة)
1) علاقة معرفة في \mathbb{R} بـ: $x \mathcal{R} y \Leftrightarrow x^2 - y^2 > 15$

(أ) هل أن \mathcal{R} 1 ؟

لدينا: $3^2 - 1^2 = 8 \neq 15$

ومنه $3 \mathcal{R} 1$

أ

(ب) أثبت أن \mathcal{R} متعدية

02

ج) هل أن R تناظرية؟ (مع تبرير الإجابة)

$\forall x, y \in \mathbb{R} : x R y \Rightarrow y R x ?$

$x R y \Rightarrow x^2 - y^2 > 15$

بالضرب في (-1) نجد $y^2 - x^2 < -15$

$\Rightarrow y^2 - x^2 \not> 15$

ومن $y R x$

R ليست تناظرية \mathbb{R} 114

د) هل أن R انعكاسية؟ (مع تبرير الإجابة)

$\forall x \in \mathbb{R} : x R x ?$

لدينا $x^2 - x^2 = 0 \not> 15$

ومن $x \not R x$

R ليست انعكاسية \mathbb{R} 115

ب) احسب $\lim_{x \rightarrow 0} f(x)$ وهل تقبل f امتدادا بالاستمرار عند العدد 0؟ (مع تبرير الإجابة)

$\lim_{x \rightarrow 0} f(x) = \frac{0}{0} = \infty$

$f = f(x) = \lim_{x \rightarrow 0} \frac{1/(x+1)}{3x^2} = \frac{1}{0^+}$

$= +\infty$

f لا تقبل امتدادا بالاستمرار عند 0

العدد 0 لا عددية $\lim_{x \rightarrow 0} f(x) \neq$

02

2) لتكن f الدالة المعرفة بـ: $f(x) = \frac{\ln(x+1)}{x^3}$

أ) عين D_f مجموعة تعريف f وعين المشتق $f'(x)$

$\begin{cases} x+1 > 0 \\ x \neq 0 \end{cases}$ عرفه f

$\Rightarrow (x > -1) \wedge (x \neq 0)$

$D_f =]-1, 0[\cup]0, +\infty[$

$f'(x) = \frac{1/(x+1) \cdot x^3 - 3x^2 \ln(x+1)}{x^6}$

$= \frac{x^3}{x+1} - \frac{3x^2 \ln(x+1)}{x^6}$

02



18 جانفي 2022

التصحيح النموذجي لامتحان الأول لمقياس رياضيات 1 والتنقيط

قسم: أولى تكنولوجيا

اللقب والاسم: رقم التسجيل: الفوج:

التمرين 1: (8 نقاط)

أذكر صحة أو خطأ كل قضية مما يلي

القضايا	(ص) أو (خ)
نفي القضية: $\forall x \in \mathbb{R}: (x^4 > x) \wedge (x \neq 1443)$ هو القضية: $\exists x \in \mathbb{R}: (x^4 < x) \vee (x = 1443)$	خ
$\forall x \in \mathbb{R}: x^2 - x + 5 > 0$	ص
$\exists x \in \mathbb{R}: x - 1 = 4x + 1$	ص
$\text{Arcsin}(\sin 2\pi) = 2\pi$	خ
$\text{sh}(x) - \text{ch}(x) = e^{-x}$	خ
$(\text{Arctg}(-x + 1))' = \frac{-1}{x^2 - 2x + 2}$	ص
لتكن g دالة معرفة بـ $g(x) = e^x - \text{Arcsin}(x)$ الدالة g متناقصة تماما على \mathbb{R}	خ
النشر المحدود بجوار 0 للدالة $f(x) = \ln(x + 1)$ هو: $f(x) = x - \frac{1}{2}x^2 + o(x^2)$	ص

$\forall x, y, z \in \mathbb{R}, x > y \wedge y > z$
 $\rightarrow x^2 - y^2 > 10$
 $y^2 - z^2 > 10$
 بالجمع طرفاً الطرف الأول، نحصل على:
 $x^2 - z^2 > 20$ وبما أن $20 > 10$ فإن $x^2 - z^2 > 10$ ومنه $x > z$
 إذن \mathbb{R} متعدية على \mathbb{R}

2/1

التمرين 2: (12 نقطة)

1) \mathbb{R} علاقة معرفة في \mathbb{R} : $xRy \Leftrightarrow x^2 - y^2 > 10$

(أ) هل أن $\mathbb{R} 2$ ؟

لدينا $4^2 - 2^2 = 12 > 10$

ومنه $4R2$

ص

(ب) أثبت أن \mathbb{R} متعدية

$$f'(x) = \frac{\frac{1}{x+1} \cdot x^5 - 5x^4 \ln(x+1)}{x^{10}}$$

$$= \frac{x^5/x+1 - 5x^4 \ln(x+1)}{x^{10}}$$

٥٢

ب) احسب $\lim_{x \rightarrow 0} f(x)$ وهل تقبل f امتدادا بالاستمرار عند العدد 0؟ (مع تبرير الإجابة)

٥١.٥ $\lim_{x \rightarrow 0} f(x) = \frac{0}{0} \rightarrow \frac{0}{0}$

٥١.٦ $\lim_{x \rightarrow 0} f(x) = \lim_{x \rightarrow 0} \frac{1/x+1}{5x^4} = \frac{1}{0^+}$

٥١.٧ $= +\infty$

لا تقبل امتدادا بالاستمرار عند 0

٥١.٨ $\lim_{x \rightarrow 0} f(x) \neq f(0)$

ج) هل أن R تناظرية؟ (مع تبرير الإجابة)

$\forall x, y \in R: x R y \Rightarrow y R x$ ؟
 $x R y \Rightarrow x - y > 10$
 بالمثل $y R x \Rightarrow y - x > 10$
 $\Rightarrow y - x^2 \neq 10$
 ومنه $y R x$ ومنه R ليست تناظرية في R (٥١.٢)

د) هل أن R انعكاسية؟ (مع تبرير الإجابة)

$\forall x \in R: x R x$ ؟
 $x^2 - x = 0 \neq 10$ لئلا $x R x$
 ومنه $x R x$ ومنه R ليست انعكاسية في R (٥١.٣)

2) لتكن f الدالة المعرفة بـ: $f(x) = \frac{\ln(x+1)}{x^5}$

أ) عين D_f مجموعة تعريف f وعين المشتق $f'(x)$

f معرفة $\Leftrightarrow \begin{cases} x+1 > 0 \\ x \neq 0 \end{cases}$

$\Rightarrow (x > -1) \wedge (x \neq 0)$

$\Rightarrow D_f =]-1, 0[\cup]0, +\infty[$

٥٢



امتحان في مقياس بنية المادة (الكيمياء 1)

التصحيح المتوحد

التمرين الاول: (08 نقاط)

1- اجب بصحيح (ص) او خطأ (خ) في الحالات الاتية :

الحالات	(ص) أو (خ)
✓ تم اكتشاف النيوترونات سنة 1932 على يد العالم الانجليزي رذرفورد Rutherford	خ
✓ قوة ستوكس هي قوة مقاومة المائع وتناسب عكسيا مع معامل لزوجة المائع وقطر الكرة وسرعتها الحدية	خ
✓ النظائر هي افراد كيميائية تشابه في العدد الكتلي (A) وتختلف في العدد الذري (Z)	خ
✓ عنصر $^{35}_{17}Cl^{-}$ يحتوي على 17 الكترون	خ
✓ اشباه الهيدروجين هي شوارد فقدت الكترونا من المدار الخارجى مثل Li^{+}	خ
✓ طاقة التاين (التشرد) هي الطاقة الواجب بذها لطرده الكترون من مداره الاساسى الى الحالة اللانهاية	ص
✓ في طيف الاصدار (الانبعاث) ينتقل الالكترن من مستوي طاقي الى مستوي طاقي اعلى	خ
✓ توافق سلسلة ليمان منطقة الاشعة فوق البنفسجية حيث $n_1=2, n_2=3,4,....$	خ

التمرين الثاني: (12 نقاط)

1. يتكون مركب كيميائي من العناصر التالية : 26.53 % من البوتاسيوم و 35.37 % من الكروم

و 38.10 % من الاكسجين , فاذا علمت أن كتلته المولية تساوي 294.18 g/mol

1. اوجد الصيغة الجزئية لهذا المركب الكيميائي ؟

يعطى : $M(K) = 39.1 \text{ g/mol}$ $M(Cr) = 52 \text{ g/mol}$ $M(O) = 16 \text{ g/mol}$

$$n = \frac{m}{M} \Rightarrow$$

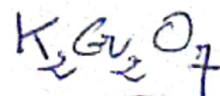
$$n(K) = \frac{26,53}{39,1} = 0,6 \text{ mol}$$

$$n(Cr) = \frac{35,37}{52} = 0,6 \text{ mol}$$

$$n(O) = \frac{38,10}{16} = 2,38 \text{ mol}$$

تقسيم $K = 1 \times 2$
 $Cr = 1 \times 2$
الأقل $O = 3,5 \times 2$

اذن الصيغة الكيميائية للمركب



02

II. ان قذف نواة الليثيوم بواسطة بروتون يؤدي الى تفاعل النووي التالي: ${}^7_3\text{Li} + {}^1_1\text{H} \rightarrow {}^4_2\text{He} + {}^4_2\text{He}$

1. احسب التغير في الكتلة Δm ب uma والطاقة المحررة E خلال هذا التفاعل الاندماج ب الجول (joule) و الالكترتون فولط (ev) ؟

يعطى: $m({}^1_1\text{H}) = 1.00727 \text{ uma}$ $m({}^7_3\text{Li}) = 7.01601 \text{ uma}$ $m({}^4_2\text{He}) = 4.00260 \text{ uma}$

① حسب التفسير في الأتالي Δm

$$\textcircled{01} \Delta m = 2m\left({}^4_2\text{He}\right) - \left[m\left({}^7_3\text{Li}\right) + m\left({}^1_1\text{H}\right) \right] = 0,01808 \text{ Uma}$$

② حساب الطاقة المحررة ب (Joule) و (ev)

$$\textcircled{01} \Delta E = \Delta m \cdot c^2 \Rightarrow \Delta E (\text{Joule}) = 0,01808 \times 466 \cdot 10^{-27} \times (3 \cdot 10^8)^2$$

$$= 0,2704 \cdot 10^{-11} \text{ Joule} \quad \textcircled{01}$$

$$\Delta E (\text{ev}) = 0,1688 \cdot 10^9 \text{ ev} \quad \textcircled{01}$$

III. احسب طول الموجة لثاني خط من سلسلة باشن. $R_H = 1.1 \cdot 10^5 \text{ cm}^{-1}$

$$\textcircled{01} \frac{1}{\lambda} = R_H \left(\frac{1}{n_1^2} - \frac{1}{n_2^2} \right), \quad n_1 = 3, \quad n_2 = 5 \quad \textcircled{01}$$

$$\frac{1}{\lambda} = 1,1 \cdot 10^5 \left(\frac{1}{9} - \frac{1}{25} \right) \Rightarrow \lambda = \frac{225}{16 R_H}$$

$$\lambda = 12,78 \cdot 10^{-5} \text{ cm} \quad \textcircled{01}$$

$$\lambda = 12,78 \cdot 10^{-7} \text{ m} \quad \textcircled{01}$$

بالتوفيق



جذع مشترك علوم و تكنولوجيا سنة أولى الموسم الجامعي: 2022 / 2021

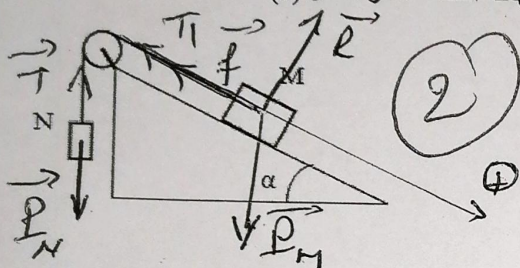
اللقب: الاسم: الفوج:

امتحان فيزياء (1)

التمرين الأول: (8 نقاط)

جسم M ينزلق على مستوي مائل عن الأفق بزاوية $\alpha = 30^\circ$ وقوة الاحتكاك $f = 2N$ كتلة الجسم $m_M = 5kg$ و $g = 10 m/s^2$

يجر جسم N كتلته $m_N = 2kg$ بواسطة خيط عديم التمدد يمر على محز بكرة مهمة الكتلة انظر الشكل (3)



1- ارسم كل القوى المؤثرة على الجسمين.

2- بتطبيق المبدأ الأساسي للتحرّك احسب تسارع الجملة.

3- احسب رد فعل المستوى المائل.

الحل

حساب تسارع الجملة

الجملة (M)

$$\sum \vec{F} = m_M \vec{a}$$

$$\vec{P}_M + \vec{T}_1 + \vec{f} + \vec{R} = m_M \vec{a}$$

بالإسقاط على محور الحركة

$$\textcircled{1} \quad P_M \sin \alpha - f - T_1 = m_M a$$

الجملة N

$$\sum \vec{F} = m_N \vec{a}$$

$$\vec{P}_N + \vec{T} = m_N \vec{a}$$

بالإسقاط على محور الحركة

$$\textcircled{2} \quad T - P_N = m_N a$$

التسارع جملة الكتلة

$$T = T_1$$

بجمع (1) و (2)

$$P_M \sin \alpha - f - P_N = (m_M + m_N) a$$

و $\sin \alpha$

$$a = \frac{4M \sin \alpha - f - m_N g}{m_M + m_N}$$

$$\textcircled{1} \quad a = \frac{25 - 2 - 20}{5 + 2} = \frac{3}{7} \text{ مع } 1/s^2$$

(3) حساب رد فعل المستوى المائل

$$R \sin \alpha = P \cos \alpha = 0$$

$$R = P \cos \alpha$$

$$R = m_N g \cos \alpha$$

$$R = 20 \times 0,86 \text{ N}$$

$$\textcircled{2} \quad R = 17,2 \text{ N}$$

التمرين الثاني: (12 نقط)

نقطة مادية M تتحرك في معلم اسطواني (ρ ، φ ، z) حيث O' تتحرك بالنسبة ل O مبدأ المعلم الكارترزي المطلق

حيث $\vec{OO}' = 3t\vec{j}$ و $z = t$ و $\rho = 2t^2$; $\varphi = 2t$; $\vec{O'M} = \rho\vec{u}_\rho + z\vec{k}$ أنظر الشكل (1) حيث $(O, \vec{i}, \vec{j}, \vec{k})$ و على المحور OY

1- احسب السرعة النسبية $\vec{V}_r(M)$

2- احسب سرعة الجر في المعلم اسطواني $\vec{V}_e(M)$

3- احسب السرعة المطلقة في المعلم اسطواني $\vec{v}_a(M)$

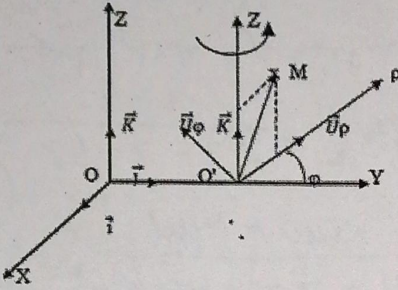
4- احسب التسارع النسبي $\vec{a}_r(M)$

5- احسب تسارع الجر $\vec{a}_e(M)$

6- احسب تسارع كوريوليس $\vec{a}_c(M)$

7- احسب التسارع المطلق $\vec{a}_a(M)$

الشكل (1)



الحل

لدينا شعاع الموضع $\vec{OM} = \vec{OO}' + \rho\vec{U}_\rho + z\vec{k}$

1- حساب السرعة النسبية $\vec{V}_r = \rho\vec{U}_\rho + z\vec{k}$ إذن $\vec{V}_r = 4t\vec{U}_\rho + \vec{k}$

2- حساب سرعة الجر في المعلم اسطواني $\vec{V}_e = d\vec{OO}'/dt + \rho\vec{U}_\rho$

$\vec{V}_e = 3\vec{j} + 2t^2(2\vec{U}_\rho)$ ولكن $\vec{j} = \cos\varphi\vec{U}_\rho - \sin\varphi\vec{U}_\varphi$

1 $\vec{V}_e = 3\cos(2t)\vec{U}_\rho + (-3\sin(2t) + 4t^2)\vec{U}_\varphi$

3- حساب السرعة المطلقة $\vec{V}_a = \vec{V}_r + \vec{V}_e$

1 $\vec{V}_a = (4t + 3\cos(2t))\vec{U}_\rho + (-3\sin(2t) + 4t^2)\vec{U}_\varphi + \vec{k}$

2 $\vec{a}_r = 4\vec{U}_\rho$ إذن $\vec{V}_r = \dot{\rho}\vec{U}_\rho$ حساب التسارع النسبي \vec{a}_r

5- حساب شعاع تسارع الجر $\vec{a}_e = \ddot{OO}' + \frac{d\omega}{dt} + \vec{\omega} \wedge \vec{\omega} \wedge \vec{O'M}$

2 $\vec{a}_e = -8t^2\vec{U}_\rho$ ومنه $\vec{\omega} = \dot{\varphi}\vec{k}$ و $\vec{a}_e = \ddot{\rho}\vec{U}_\rho + \frac{d\dot{\varphi}}{dt} + \vec{\omega} \wedge \vec{\omega} \wedge \vec{O'M}$

2 $\vec{a}_c = 16t\vec{U}_\varphi$ <==== $\vec{a}_c = 2\vec{\omega} \wedge \vec{V}_r$ حساب شعاع تسارع كوريوليس

7- حساب شعاع التسارع المطلق $\vec{a}_a = \vec{a}_r + \vec{a}_e + \vec{a}_c$

2 $\vec{a}_a = (4 - 8t^2)\vec{U}_\rho + 16t\vec{U}_\varphi$

السداسي: الأول

Examen

قسم: سنة أولى جذع مشترك علوم وتكنولوجيا
الموسم الجامعي: 2022 / 2021

المدة: ساعة واحدة

السنة: أولى جذع مشترك

المقياس: الإعلام الآلي 1

رقم التسجيل:

الفوج:

الاسم واللقب:

ملاحظات: - كتابة الاسم واللقب باللغة العربية
- يمنع استعمال الآلة الحاسبة

نقطة الامتحان

Questions de cours (08pts) : Côcher la ou les bonnes réponses (X)

1. Un modem est un :

- Périphérique de sortie
 Périphérique d'entrée
 Périphérique d'entrée/sortie **1 Pt**
 Aucun.

5. ROM signifie :

- Read Access Memory
 Random Only Memory
 Read And Memory
 Aucun. **1 Pt**

2. L'algorithme est une:

- Ensemble des méthodes ;
 Séquence finie d'actions ; **1 Pt**
 Séquence infinie d'actions;
 Aucun.

6. Un système d'exploitation est :

- Permet de gérer le matériel et les autres logiciels
 Assurer la liaison entre les ressources matérielles, l'utilisateur et les applications **1 Pt**
 Ensemble de programme destiné à gérer une machine

3. La mémoire principale est :

- RAM;
 ROM; **1 Pt**
 La mémoire vive;
 Aucun.

7. L'informatique :

- C'est une méthode du traitement automatique de l'information; **1 Pt**
 C'est la science du traitement automatique de l'information;
 C'est une machine électronique qui peut recevoir des informations.

4. Unix est un :

- Logiciel;
 Un programme d'écriture;
 Système d'exploitation. **1 Pt**

8. Nous désignons par «Hardware» :

- L'ensemble des éléments matériels de l'ordinateur; **1 Pt**
 l'ensemble des éléments logiciels de l'ordinateur;
 Ensemble de programme pour écrire nos documents;

Exercice N°1 (7 pts): Codage d'information

1. Placer la marque (x) dans la colonne des numéros appartenant au système de numérotation approprié :

0.25 + 0.25 + 0.25 + 0.25 + 0.25 + 0.25 + 0.25 + 0.25 = 2 Pt

	475	B9C0F	10101110	8765	1980	1001	DDEFA	1002001
Binaire			X			X		
Octal	X		X			X		X
Décimale	X		X	X	X	X		X
Hexadécimale	X	X	X	X	X	X	X	X

2. Effectuer les conversions suivantes

$$(2AZD)_{16} = (\dots\dots\dots)_{10}$$

..... **Cas impossible car: Z ∉ base 16.** **1 Pt**

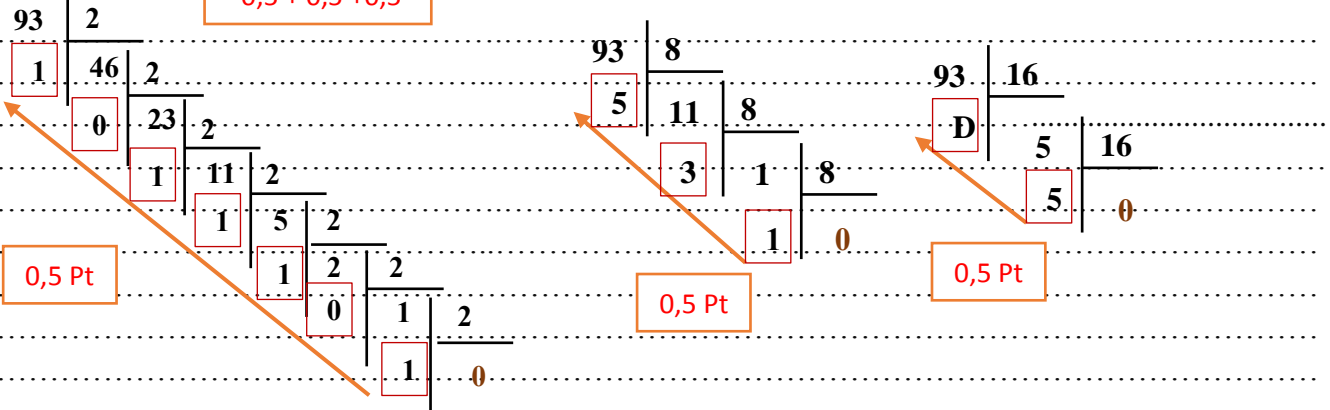
$$(135)_8 = (\dots\dots\dots)_{10}$$

..... $1*8^2 + 3*8^1 + 5*8^0 = 1*64 + 3*8 + 5*1 = 64 + 24 + 5 = 93$ **0,5 + 0,5 = 1 Pt**

$$(93)_{10} = (1011101)_2 = (135)_8 = (5D)_{16}$$

3 Pt

$$0,5 + 0,5 + 0,5$$



Exercice N°2 (5 pts) : Notions d'algorithme

- 1- Ecrire un algorithme qui calcule la moyenne de trois notes N1, N2, N3 avec leurs coefficients C1, C2, C3 et affiche le résultat puis écrire l'élève est admis si la moyenne supérieure ou égale dix et l'élève est ajourné si la moyenne est inférieure à dix.

- اكتب خوارزمية تسمح بحساب معدل ثلاث درجات N1 و N2 و N3 مع معاملاتها C1 و C2 و C3 ويعرض النتيجة ، ثم اكتب قبول الطالب إذا كان المعدل أكبر من أو يساوي عشرة ويتم تأجيل الطالب إذا كان المعدل أقل من عشرة.

- 2- Dessinez l'organigramme de cet Algorithme.

L'algorithme

L'organigramme

Algorithme Moyenne

Variable N1, N2, N3, C1, C2, C3, Moy: réel;

Début

Ecrire ('Donner les notes N1, N2 et N3');

Lire (N1, N2, N3);

Ecrire ('Donner les coefficients C1, C2 et C3');

Lire (C1, C2, C3);

$Moy \leftarrow (N1 * C1 + N2 * C2 + N3 * C3) / (C1 + C2 + C3)$;

Ecrire ('La moyenne est = ', Moy);

Si (Moy ≥ 0) Alors

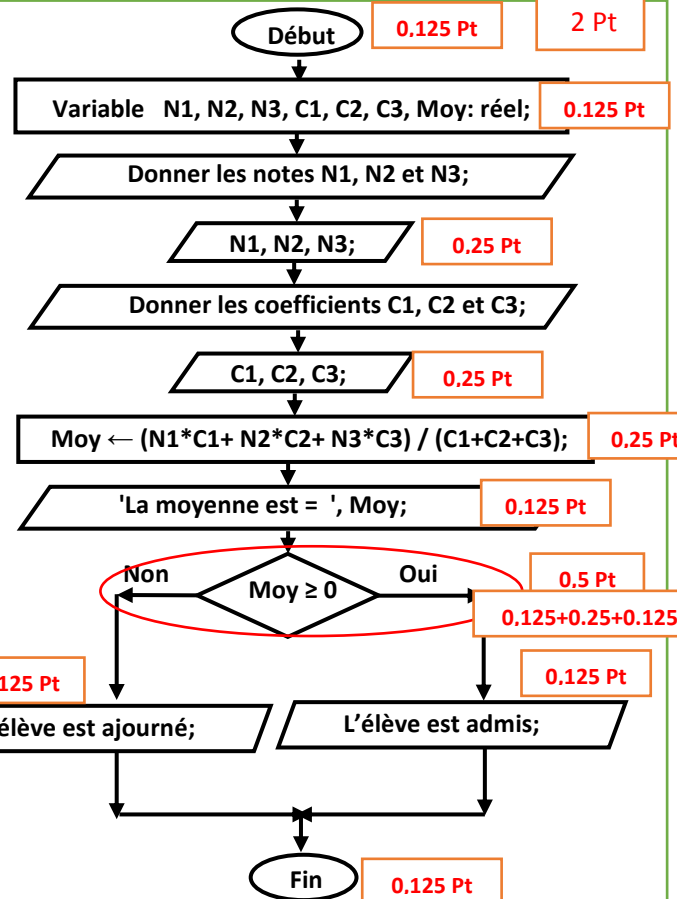
Ecrire ('l'élève est admis');

Sinon

Ecrire ('l'élève est ajourné');

Finsi

Fin





1er année ST

Durée : 60 min

الاسم: اللقب: الشيخ المودجي الفوج:

Exercice n°1 : Répondez avec Vrai ou Faux .

(12 pts)

- 1- L'énergie électrique est une énergie secondaire (Vrai..)
- 2- La turbine de FRANCIS utilisée pour les centrales à hauteur de chutes 30 à 200 m (Vrai..)
- 3- Le générateur est appareil qui transforme l'énergie mécanique en énergie électrique.. (Vrai..)
- 4- La turbine de PELTON utilisée pour les centrales à hauteur de chutes supérieur à 200 m (Vrai..)
- 5- Une éolienne réelle pourra récupérer 59% de l'énergie ou de la puissance du vent (Vrai..)
- 6- Les éoliennes à axe horizontal sont moins performantes que celles à axe verticale (Vrai..)
- 7- Pour transporté l'énergie électrique il faut élever la tension (Vrai..).
- 8- La puissance de l'énergie hydraulique résulte de la conjonction de deux facteurs (Vrai..)
- 9- La puissance récupérée sur une éolienne est inférieur à la puissance du vent (Vrai..)
- 10- Un onduleur est un dispositif électronique qui convertit le courant électrique continu en courant alternatif. (Vrai..)
- 11- L'exploitation de l'énergie éolienne ne produit pas de CO₂ (Vrai..)
- 12- la chimie organique se définit comme la chimie des composés de carbone. (Vrai..)

Exercice n°2 : Remplissez le tableau avec les mots techniques suivants:

(08 pts)

Transformateur , Multimètre, L'oscilloscope, L'électronique, L'électrotechnique .

Mot	Définition
L'électrotechnique	est l'ensemble des technique qui mettent en œuvre des courants moyens et forts .
Transformateur	Appareil servant à modifier la tension, l'intensité électrique
Multimètre	Une appareil permet des mesure la tension ,résistance et l'intensité électrique.
L'oscilloscope	Une appareil permet de visualiser la forme d'une onde.
L'électronique	est l'ensemble des technique qui mettent en œuvre des courants faibles.



التصحيح النموذجي

يكتسي البحث العلمي أهمية خاصة باعتباره مصدر من مصادر المعرفة وعاملا مهما في حل المشاكل الإنسانية في مختلف ظروف الحياة:

1- عرف البحث العلمي والمنهج العلمي والعلاقة بينهما؟ **(3 ن)**

البحث العلمي: وسيلة للدراسة يمكن بواسطتها الوصول إلى حل مشكلة محددة.
 المنهج العلمي: هي التنظيم المبرمج للمعطيات من أجل التوصل إلى العديد من نتائج منطقية.
 العلاقة بينهما: هي علاقة تكاملية، البحث العلمي هو دراسة لفكرة أو موضوع ما ولكن المنهجية من أبرز خصائص البحث العلمي الموضوعية والابتكار وتحري الاستقلالية: **(3 ن)**

2- من أبرز خصائص البحث العلمي الموضوعية والابتكار وتحري الاستقلالية: **(3 ن)**

أ- عرفهم بكل اختصار:

الموضوعية: وهي صير الدراسة وتصرفها بما يتكثف فيها من الظواهر موضوع البحث، مع تجنب الآثار الابتكار: هو حل... أشكال... تركيبة الدراسات السابقة... المنهجية... من الزايات الشخصية.
 تحري الاستقلالية: أي أن يكون... للباحث... علمية... مستقلة في إعداد البحث.
 ب: حدد العلاقة بين الابتكار والموضوعية

... الابتكار هو تقديم... فائدة... أو... أما تحري... الاستقلالية... هو أن...
 ... الباحث... الشخصية... علمية... مستقلة... فلال... أسلوبية... فيمكن...
 ... يكون... تقديم... هذه... الفائدة... الموضوعية... مستقلة... وتكون... الأسلوب...

ج- تكلم عن الموضوعية مبرزاً دورها في جودة البحث (لا تتجاوز 7 أسطر) **(3 ن)**

الموضوعية: هي وضع المشاهدة... الدراسة... الظواهر موضوع... البحث... بعيداً... الخروج...
 الموضوع... مع تجريد... الأفكار... النزاعات... الشخصية... وعدم... التحيز... مسبقاً...
 أو... مستخلص... معين... هذه... الأفكار... والمواضيع... المراد... التطرف... إليها... عند...
 أ- يجب تبعية... البحث... الموضوعية... بغير... من... جودة... البحث...
 فأجب... إنسان... مطلع... على... موضوع... ما... من... وعنده... الموضوعية... لا... تستغوي...
 ... الآثار... حيث...

Name: BELKHEER Smail Reg/Number: Convenor Group:

READ THE TEXT CAREFULLY AND ANSWER THE QUESTIONING.

Language, a system of conventional spoken, manual (signed), or written symbols by means of which human beings, as members of a social group and participants in its culture, express themselves. The functions of language include communication, the expression of identity, play, imaginative expression, and emotional release. It is through language that we communicate with the world, define our identity, express our history and culture, learn, defend our human rights and participate in all aspects of society.

Through language, people preserve their community's history, customs and traditions, memory, unique modes of thinking, meaning and expression. They also use it to construct their future. Language is pivotal in the areas of human rights protection, good governance, peace building, reconciliation, and sustainable development.

When people are learning a new language they first hear it spoken. Eventually, they try to repeat what they hear. Later, they see the spoken language depicted symbolically in print. Finally, they reproduce these symbols on paper.

EXERCISE ONE: (Comprehension = 6 points) Give a title to each paragraph.

- 1/- Definition of language 2/- Importance of language
 3/- Skills of language

a/- What are the skills of the language?

Are Speaking, listening, writing and Reading.

b/- What is the importance of the language?

Is to communicate, express the feelings, thoughts, ideas etc.

EXERCISE TWO: (Phonetics = 6 points) Define the following.

a/- Phonetics: Is a branch of linguistics that studies how humans make and perceive sounds, or in case of sign languages, aspects of sign

b/- Consonant: Letters of alphabet pronounced by stopping the air from flowing easily from the mouth

EXERCISE THREE: (Grammar = 8 points) Extract from the text the following.

a/- Three adjectives 1 There are fifteen 2 adjectives 3 (15)

b/- Three adverbs 1 Eventually 2 Symbolically 3 Finally

c/- Three nouns 1 There fifty four 2 hours 3 (54)

d/- Give the definition of a verb: A word that is the grammatical center of a predicate and express an act, occurrence or mode of being, is inflected for agreement with the subject.

ONCE YOU STOP LEARNING, YOU START DYING.

